

Bir satranç turnuvasında Aylin, Burak, Ceren, Emrah, Fatoş, Gamze, Murat yarışmışlardır. Turnuva sonuçlarıyla ilgili olarak şunlar bilinmektedir: Kızların en sonuncusu Fatoş'dur. Aylin'in derecesi, Burak ve Ceren'den daha yüksek, Gamze'den daha düşüktür. Murat yalnızca Emrah'ı geçebilmiştir. Ceren dördüncü olmuştur.

Yukarıdaki metne göre aşağıdaki ifadeleri değerlendiriniz.

1. Turnuvaya katılanlardan hangisi altıncı olmuş olabilir?

a) Emrah

b) Gamze

c) Murat

d) Aylin

e) Fatoş

2. Yukarıdaki bilgiler doğrultusunda aşağıdakilerden hangisi yanlıştır?

a) Gamze'nin derecesi, Burak'tan daha yüksektir.

b) İlk iki dereceyi alanlar bayan yarışmacılardır.

c) Burak'ın derecesi, Aylin'den daha yüksektir.

d) Ceren'in derecesi, Burak'tan daha düşüktür.

e) Fatoş; Ceren ile Murat arasında bir sıraya sahiptir.

1) Aşağıdakilerden hangisi diğerlerinden farklıdır?

- a) MAKALE b) MASAL c) HİKAYE d) ŞİİR e) ROMAN
-

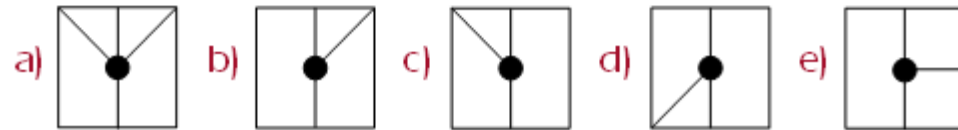
2) Bir otomobil 45 kilometreyi 45 dakikada gidiyorsa, bu otomobil saatte kaç kilometre hızla yol almaktadır?

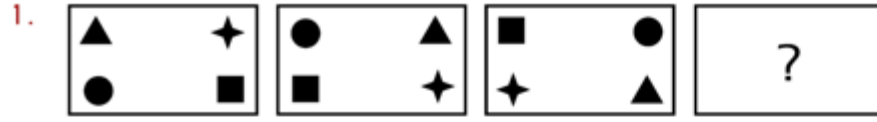
- a) 60 b) 20 c) 30 d) 40 e) 50
-

3)

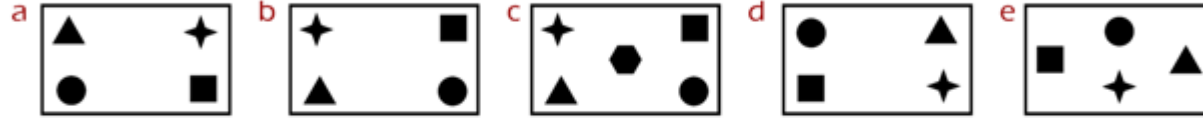


Yukarıdaki şekil dizisinde “?” yerine aşağıdakilerden hangisi gelmelidir?

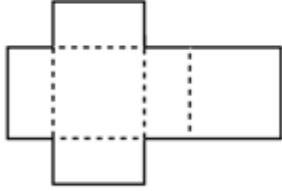




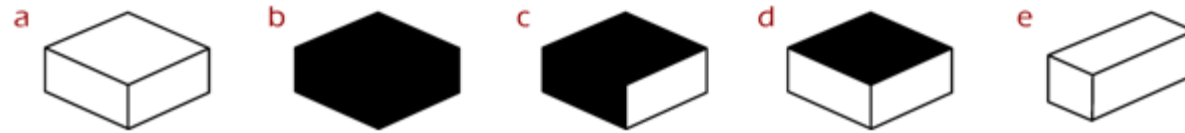
Yukarıdaki şekil dizisinde “?” yerine aşağıdaki seçeneklerden hangisi gelmelidir?



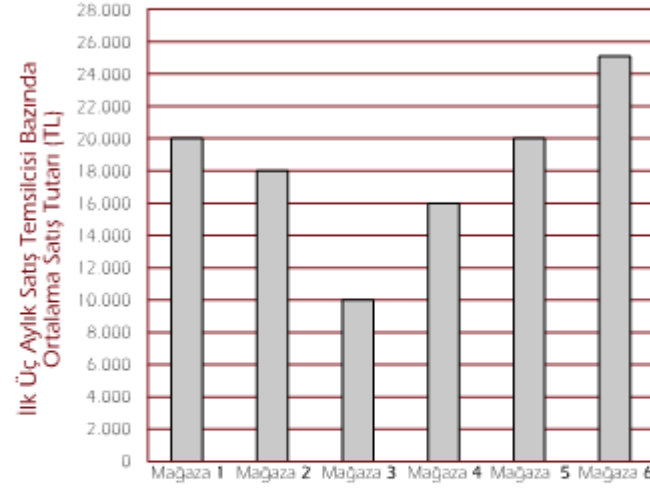
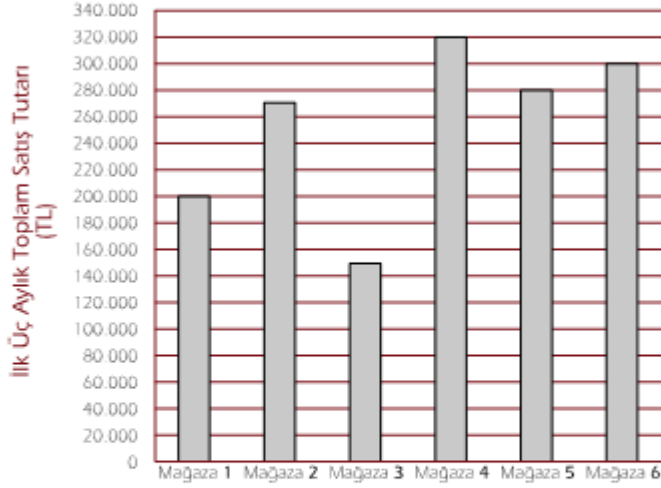
2.



Yukarıdaki şekil kesik çizgilerden katlandığında aşağıdaki şekillerden hangisi oluşur?



Aşağıdaki grafiklerde bir şirkete bağlı olarak çalışan mağazaların ilk üç aylık toplam satış tutarlarıyla satış temsilcisi başına düşen ortalama satış tutarları yer almaktadır.



- İlk üç aylık toplam satışlara bakıldığında, en çok ve en az satış yapmış olan iki mağaza arasındaki fark, en az satış yapan mağazanın kaç katıdır? (en yakın seçeneği işaretleyiniz)
a) 0,75 b) 1 c) 1,15 d) 2 e) 3
- Satış Temsilcisi bazında ilk üç aylık satış ortalamalarına bakıldığında en az satış yapan mağazanın çalışan sayısı kaçtır?
a) 11 b) 12 c) 13 d) 15 e) 16